


## Anomalie des Wassers

### Einleitung



Nahezu jede Heizung besitzt ein Thermostat, auf dem folgendes Zeichen zu sehen ist:

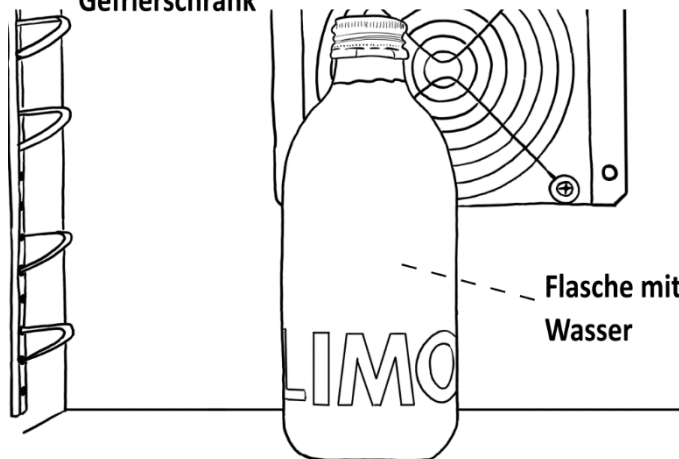


Welche Bedeutung hat dieses Zeichen?

### Aufbau



Gefrierschrank



Flasche mit  
Wasser

### Durchführung



Eine Flasche gefüllt mit Leitungswasser wird über längere Zeit in ein Eisfach gestellt.

### Beobachtung



Beschreibe deine Beobachtungen:

---


---

---



**Arbeitsauftrag:**

1. Erkläre folgende Abbildungen



---

---

---

---

2. Erkläre die Bedeutung und Notwendigkeit des mysteriösen Zeichens auf den Thermostaten:

---

---

---

---

---

---

