


WECKER UNTER DER VAKUUMGLOCKE



Auf der vorherigen Seite solltet ihr ein Bilder-Rätsel lösen. Mal sehen, ob folgendes Experiment zu eurer Lösung passt...





Auswertung




Arbeitsaufträge:

Erklärt eure Beobachtungen, indem ihr


- a) die jeweiligen Zeichnungen ergänzt und
- b) in Worten die Beobachtungen erklärt.

Hinweis: Die Klingel ist in jeder Phase eingeschaltet!

Phase 1 – Ohne Deckel



Phase 2 – Pumpe aus



Phase 3 – Pumpe an

